

Material per  
l'alumnat

6

## Gràfics estadístics

Ciències Socials, Geografia i Història

altres  
matèries



> Cap a una orientació laboral en igualtat

Generalitat  
de Catalunya

Unió Europea  
Fons social europeu  
L'FSE inverteix en el teu futur



Material per  
l'alumnat

6

## Gràfics estadístics

Presentació de l'activitat

altres  
matèries

<b>Nivell</b>	Secundària.
<b>Durada</b>	Una hora aproximadament.
<b>Objectius</b>	<ul style="list-style-type: none"><li>▪ Sensibilitzar l'alumnat en les diferències existents entre dones i homes en l'àmbit educatiu i professional i involucrar-los en la problemàtica mitjançant la lectura i la interpretació de gràfics estadístics sobre l'estructura de la població "activa".</li></ul>
<b>Resultats esperats</b>	<ul style="list-style-type: none"><li>▪ Aconseguir que l'alumnat sigui capaç de veure les diferències que existeixen per raó de sexe a l'educació i en el mercat laboral mitjançant la interpretació de gràfics.</li><li>▪ Sensibilitzar l'alumnat sobre aquestes diferències.</li><li>▪ Aconseguir que reflexionin sobre aquesta realitat i que la debatin.</li></ul>

Fitxa

6.1

# Lectura i interpretació de gràfics estadístics

altres matèries

► Observa i comenta els següents gràfics:

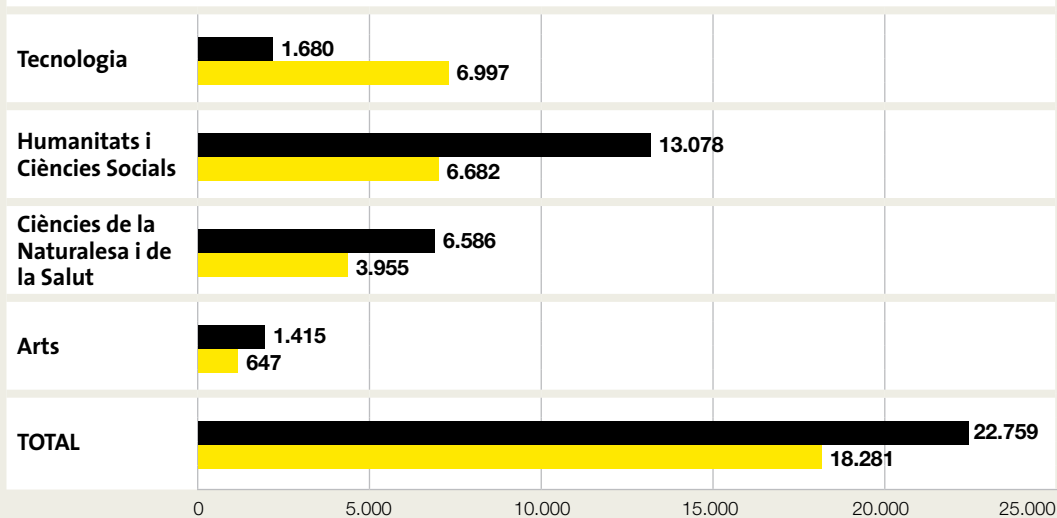
1

## ESPECIALITAT FORMATIVA

Què estudien la majoria dels nois? I de les noies?

Alumnat matriculat en el segon curs de Batxillerat a Catalunya segons modalitat.

■ Nois ■ Noies



Font: Estadística de modalitats en els ensenyaments no universitaris. Resultats detallats. Curs 2005 - 2006.

Fitxa

6.1

# Lectura i interpretació de gràfics estadístics

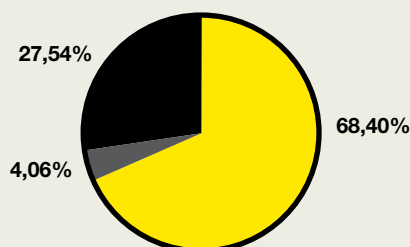
altres matèries

## 2 SITUACIÓ SEGONS L'ACTIVITAT

Com es distribueix la població d'homes i la de dones en relació a l'activitat i a l'ocupació? Creus que és just fer servir el terme "inactivitat" per a denominar, entre d'altres, les mestresses de casa?

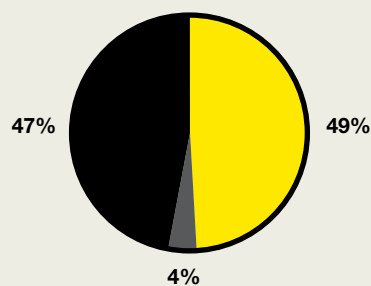
Percentatge d'homes segons l'activitat econòmica. Catalunya.

■ Inactius ■ Ocupats ■ Aturats



Percentatge de dones segons activitat econòmica. Catalunya.

■ Inactives ■ Ocupades ■ Aturades



Font: EPA. IV Trimestre 2007. INE.

- **Població activa:** Conjunt de persones de 16 anys o més que realitzen una activitat remunerada (ocupades) o que estan disponibles i fan gestions per a realitzar-ne una (aturats que busquen feina).
- **Població ocupada:** Conjunt de persones de 16 anys o més que realitzen una activitat remunerada.
- **Població aturada o sense ocupació:** Conjunt de persones de 16 anys o més que reuneixen simultàniament les següents condicions: es troben sense feina, l'estan buscant activament i estan disponibles per treballar.
- **Població "inactiva":** Totes les persones de 16 anys o més no classificades com ocupades ni aturades: persones que s'ocupen de la seva llar, estudiants, persones jubilades/prejubilades, persones que perceben altres pensions, persones incapacitades, persones que fan treballs socials o altres activitats socials no remunerades.

Fitxa

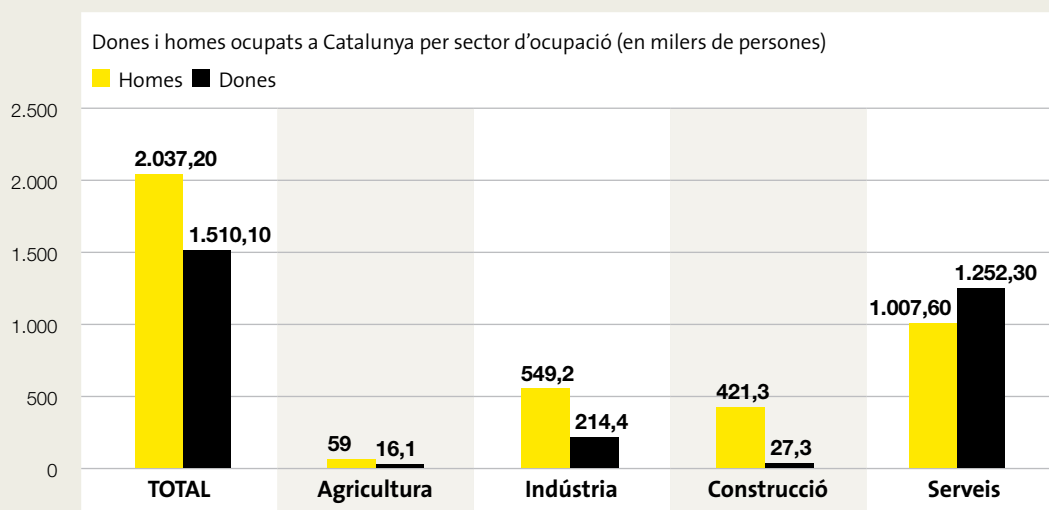
6.1

# Lectura i interpretació de gràfics estadístics

altres matèries

## 3 DISTRIBUCIÓ PER SECTORS ECONÒMICS

Com es distribueixen les dones i els homes ocupats per sectors d'activitat?



Font: EPA. IV Trimestre. INE.

Fitxa

6.2

## Gràfics estadístics

Les teves conclusions

altres  
matèries

Penses que en el Batxillerat les noies i els nois es distribueixen equitativament per especialitats? Per què?

Creus que hi ha diferències entre l'activitat econòmica de dones i homes? En quin sentit? A què creus que són degudes?

Creus que hi ha diferències entre els sectors econòmics on treballen dones i homes? Per què? A què creus que són degudes?

Fitxa

6.2

## Gràfics estadístics

Les teves conclusions

altres  
matèries

Què n'has après, d'aquesta activitat, i de què creus que et servirà a l'hora d'escollir l'especialitat educativa?